





sementes matemáticas

#05

Arranjo de bolinhas

- Crie uma expressão numérica que forneça a quantidade total de bolinhas da figura






sementes matemáticas


Arranjo de bolinhas

- Algumas opções para esse arranjo são:

$$4 \times 6 \text{ e } 12 + 4 + 8$$



Você consegue criar outras?






sementes matemáticas

Arranjo de bolinhas

- E quais expressões você criaria para esse novo arranjo?





sementes matemáticas

Estudante, você pode utilizar essa ideia de duas maneiras:

- Crie um arranjo e tente encontrar várias expressões numéricas que representem a quantidade de bolinhas
- Crie uma expressão e represente-a através de diferentes arranjos

